



## Přijímací zkoušky z matematiky pro akademický rok 2021/22 NMgr. studium Učitelství matematiky ZŠ, SŠ

Datum zkoušky: \_\_\_\_\_ Registrační číslo uchazeče: \_\_\_\_\_

Varianta 1

Příklad	1	2	3	4	5	Celkem
Body						

- Ke každému příkladu uveďte podrobný, přiměřeně okomentovaný postup. Řešení podtrhněte.
- Odevzdávejte také pomocné výpočty — příklad částečně spočítaný je lepší než nespočítaný.
- Povolené pomůcky: psací a rýsovací potřeby.

### Zadání

1 Nalezněte lokální extrémy funkce

$$f(x) = \sqrt{(x^3 + 2 \cdot x^2 + x - 4)^2}.$$

Nápověda: Uvědomte si, z čeho je funkce složená, a zkuste si načrtnout její graf. Uvědomte si, že lze snadno nalézt kořen zadané funkce.

2 Vypočtěte integrál

$$\int \max(1, x^2) dx$$

a načrtněte graf integrované funkce a některé primitivní funkce.

3 Nalezněte množinu všech (komplexních) kořenů rovnice

$$x^7 = 1.$$

Ukažte, že tato množina spolu s násobením komplexních čísel tvoří grupu.

4 Uvažujme rovinu  $\sigma$  zadanou obecnou rovnicí a parametricky zadanou přímkou  $p$  v prostoru

$$\sigma: x + y + z + 1 = 0, \quad p: \begin{aligned} x &= 3 \cdot t + 2, \\ y &= 2 \cdot t + 3, \\ z &= -1. \end{aligned}$$

Nalezněte jejich průsečík  $A \in \sigma \cap p$ .

Nalezněte dále přímkou  $q$  ležící v rovině  $\sigma$ , kolmou na přímkou  $p$ , procházející bodem  $A$ .

5 Kolika způsoby lze z cifer  $\{3, 5, 7, 2, 1, 0\}$  sestavit sudé čtyřciferné číslo tak, aby každá cifra byla využita nejvýše jednou.



$$1) \quad f(x) = \sqrt{(x^3 + 2x^2 + x - 4)^2}$$

$$= |x^3 + 2x^2 + x - 4|$$

$$= |p(x)|$$

$$p(x) = x^3 + 2x^2 + x - 4 \quad 1$$

kořeny  $p(x)$  — změny znamének  $p(x)$

$$x_1 = 1 \rightarrow 1^3 + 2 \cdot 1^2 + 1 - 4 = 0 \quad 1$$

$$[x^3 + 2x^2 + x - 4] : [x - 1] = x^2 + 3x + 4 \stackrel{!}{=} 0$$

$$- [x^3 - x^2]$$

$$\underline{\quad\quad\quad} \\ 3x^2 + x - 4$$

$$- [3x^2 - 3x]$$

$$\underline{\quad\quad\quad} \\ 4x - 4$$

$$- [4x - 4]$$

$$\underline{\quad\quad\quad} \\ 0$$



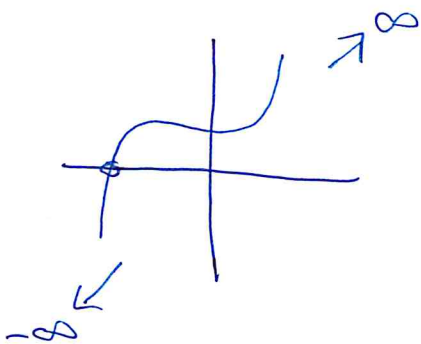
$$x_{2,3} = \frac{-3 \pm \sqrt{9 - 16}}{2}$$

(komplexní ne-reálné kořeny)

polynom má jedy kořen

graf

cca



lokální ex.  $p(x)$

$$\frac{d}{dx} p(x) = 3x^2 + 4x + 1 \stackrel{!}{=} 0 \quad 1$$

$$x_{ex} = \frac{-4 \pm \sqrt{16 - 12}}{6} = \frac{-4 \pm 2}{6}$$

maximum

$$\frac{-1}{6} \mid 6 \cdot \left(-\frac{1}{6}\right) + 4 = -2$$

$$\frac{-1}{3} \mid 6 \cdot \left(-\frac{1}{3}\right) + 4 = 2$$

minimum 1

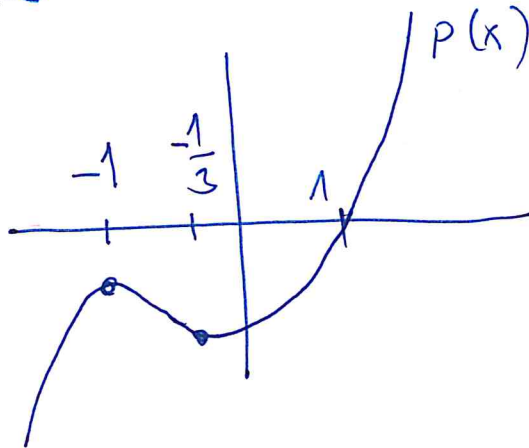
$$\frac{d^2}{dx^2} p(x) = 6x + 4$$

$$p(-1) = (-1)^3 + 2(-1)^2 + (-1) - 4 = -4$$

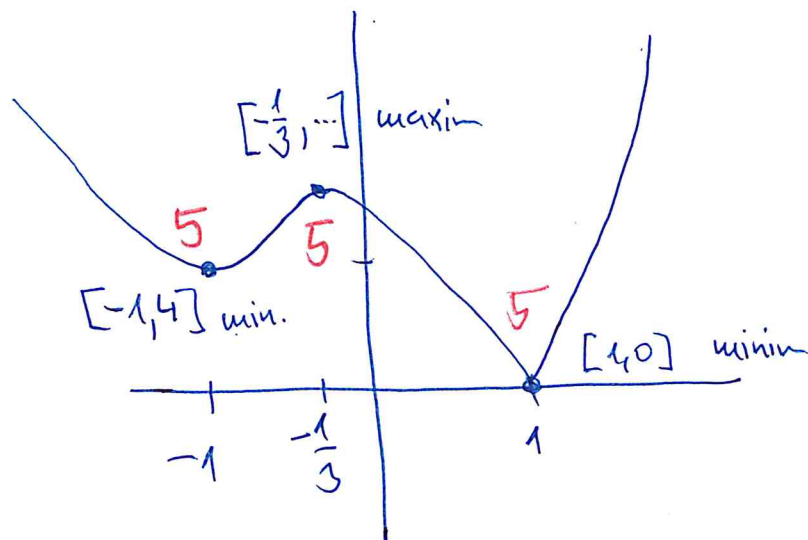
$$p\left(-\frac{1}{3}\right) = \left(-\frac{1}{3}\right)^3 + 2\left(-\frac{1}{3}\right)^2 + \left(-\frac{1}{3}\right) - 4$$

$$= -\frac{1}{27} + \frac{6}{27} - \frac{9}{27} - \frac{4 \cdot 27}{27} < 0$$

obá lokální extrémů  $p(x)$  jsou záporné

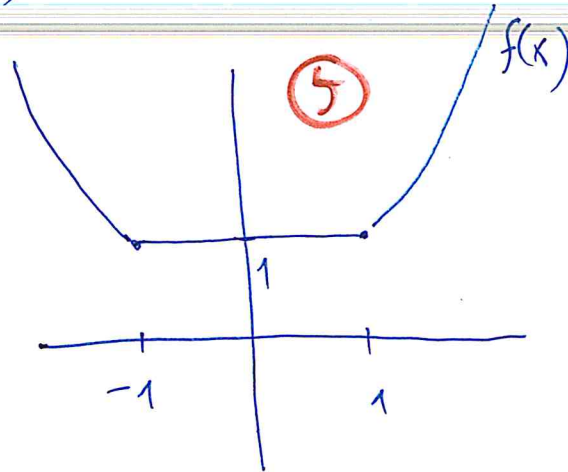


$f(x) = |p(x)|$  má tři lokální extrémů



2)

$$\int \underbrace{\max(1, x^2)}_{f(x)} dx$$



$$x \in (-\infty, -1) \cup (1, \infty)$$

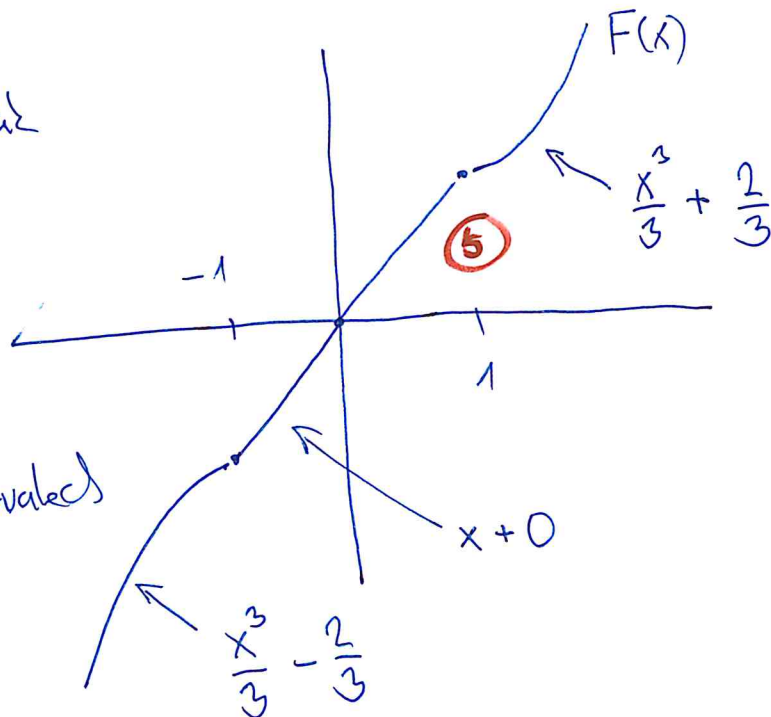
$$\int f(x) dx = \int x^2 dx = \frac{x^3}{3} + \text{const.} \quad (5)$$

$$x \in (-1, 1)$$

$$\int f(x) dx = \int 1 dx = x + \text{const.} \quad (5)$$

$$F(x) = \int f(x) dx$$

vyberme  $F(x)$  tak  
aby  $F(0) = 0$   
(např. klád)



konstanty  
v ostatních intervalech  
volíme tak aby  
 $F(x)$  byla  
spojitá

3) Binomická rovnice  $x^7 = 1$   
 má 7 ~~des~~ kořenů

12

$$x_{1, \dots, 7} \in \left\{ \sqrt[7]{1} \cdot \left( \cos\left(\frac{2\pi}{7} \cdot k\right) + i \sin\left(\frac{2\pi}{7} \cdot k\right) \right), \right. \\ \left. k = 1, 2, \dots, 7 \right\}$$

•  $\left( \left\{ x_{1, \dots, 7} \right\}, \cdot \right)$

uzavřenost násobení na množině

5

$$x_j \cdot x_k = \left( \cos\left(\frac{2\pi}{7}j\right) + i \sin\left(\frac{2\pi}{7}j\right) \right) \cdot \left( \cos\left(\frac{2\pi}{7}k\right) + i \sin\left(\frac{2\pi}{7}k\right) \right) \\ = \cos\left(\frac{2\pi}{7}j\right)\cos\left(\frac{2\pi}{7}k\right) - \sin\left(\frac{2\pi}{7}j\right)\sin\left(\frac{2\pi}{7}k\right) \\ + \left[ \cos\left(\frac{2\pi}{7}j\right)\sin\left(\frac{2\pi}{7}k\right) + \sin\left(\frac{2\pi}{7}j\right)\cos\left(\frac{2\pi}{7}k\right) \right] i$$

SOUČETNÍ VZORCE

$$= \cos\left(\frac{2\pi}{7}(j+k)\right) + \sin\left(\frac{2\pi}{7}(j+k)\right) i$$

pro  $(j+k) > 7$  využijeme  $2\pi$ -periodicitu funkce sin a cos

- 1 •  $x_7 = \cos(2\pi) + \sin(2\pi)i = 1 + 0i$  (centrální prvek)
- 1 •  $x_k^{-1} = x_{7-k}$  (inverzní prvek)
- 1 • asociativita násobení je důsledkem asoc.  $\left. \begin{array}{l} \text{násobení v } \mathbb{C} \\ \text{sečtan } j+k \end{array} \right\}$



4)

$$\text{rovina } \sigma: x + y + z + 1 = 0$$

$$\text{přímka } p: x = 3t + 2$$

$$y = 2t + 3$$

$$z = -1$$

přesečí prostřm dšszením

$$(3t+2) + (2t+3) + (-1) + 1 = 0$$

$$5t + 5 = 0$$

$$t = -1 \quad 2$$

$$A = [3(-1)+2, 2(-1)+3, -1]$$

$$= [-1, 1, -1] \quad 5$$

směrový vektor  $\vec{S}_q$  přímky  $q$  je

- kolmý na směrový vektor  $\vec{S}_p = [3, 2, 0] \quad 2$

- kolmý na normálový vektor roviny  $\vec{n}_\sigma = [1, 1, 1] \quad 2$

$$\vec{S}_q = \vec{S}_p \times \vec{n}_\sigma = \begin{vmatrix} e_1 & e_2 & e_3 \\ 3 & 2 & 0 \\ 1 & 1 & 1 \end{vmatrix} = e_1 \cdot 2 + e_2 \cdot (-3) + e_3 \cdot (3-2) \\ = [2, -3, 1] \quad 5$$

$$q: \vec{S}_q \cdot t + A \quad \left( \begin{array}{l} q: \\ x = 2t - 1 \\ y = -3t + 1 \\ z = t - 1 \end{array} \right) \quad 4$$

5) Čtyřciferné sudé číslo z cifer  $\{3, 5, 7, 2, 1, 0\}$   
má tvar

$$d_3 \cdot 10^3 + d_2 \cdot 10^2 + d_1 \cdot 10 + d_0 = [d_3 d_2 d_1 d_0]$$

příčemu

$$d_0 \in \{0, 2\}^5, \quad d_3 \neq 0^5$$

v případě  $d_0 = 0$

$$\text{vybíráme } d_3, d_2, d_1 \in \{3, 5, 7, 2, 1\}$$

tedy

$$5 \cdot 4 \cdot 3 = 60 \text{ způsobů}^5$$

v případě  $d_1 = 2$

$$\text{vybíráme } d_3 \in \{3, 5, 7, 1\} \quad (\text{aby byla zachována čtyřcifernost})$$

$$d_2, d_1 \in \{3, 5, 7, 1, 0\}$$

tedy

$$4 \cdot 4 \cdot 3 = 48 \text{ způsobů}^5$$

Celkem existuje

108 možných čísel