

Přijímací test pro NMgr: Aplikovaná geografie a regionální rozvoj, 2022

Maximální počet je 100 bodů. 20 bodů jsou jednobodové otázky (pouze jedna možnost je správná), 80 bodů jsou otázky písemné a seřazené. U písemných otázek postupujte prosím podle schématu: 1b 2a 3d 4c. Celková doba na vyplnění testu je 60 minut. Pište na přiložený list.

1. Tvorba horských pásem, jako jsou Alpy, nebo Himaláje je spojena s/se: 613
- A subdukční zónou
 B kolizí kontinent
 C kolizí ostrovních oblouk
 D rozšířením mořského dna
2. Kolik hierarchických úrovní mají statistické jednotky NUTS? 606
- A dvě
 B tři
 C čtyři
 D pět
3. Mezi ekonomicky nejvýznamnější státy USA patří: 625
- A Kalifornie, Texas, New York
 B Nové Mexiko, Ontario, Chihuahua
 C Aljaška, Havaj, Portoriko
 D Washington, Colorado, Utah
4. Patří ke každé jednotlivé regionu NUTS 2 kraje, které je tvoří: 629
- | | |
|------------------|--|
| 1 Střední Morava | A Královéhradecký, Pardubický, Liberecký |
| 2 Jihozápad | B Olomoucký, Zlínský |
| 3 Severozápad | C Jihočeský, Plzeňský |
| 4 Severovýchod | D Ústecký, Karlovarský |
5. Patří ke každému evropskému státu a jeho správní region: 627
- | | |
|------------|--------------------------|
| 1 Francie | A Sársko |
| 2 Německo | B Tridentsko-Horní Adiže |
| 3 Rakousko | C Hradsko |
| 4 Itálie | D Alsasko |
6. Patří ke každému vládnoucí náboženství k příslušné zemi nebo regionu: 639
- | | |
|-------------------------------|-------------|
| 1 protestantské křesťanství | A Dánsko |
| 2 hinduismus | B Bavorsko |
| 3 islám | C Indonésie |
| 4 římskokatolické křesťanství | D Indie |
7. Co to je intermodální doprava? 624
- A doprava realizující se mimo dopravní síť
 B doprava využívající více dopravních módů, při němž s nákladem není třeba manipulovat (je uskladněn například v kontejneru, na paletě apod.)
 C doprava využívající více dopravních módů, při níž je potřeba manipulovat s nákladem
 D doprava využívající mezinárodní dopravní infrastruktury, avšak nepřevážující žádné zboží

8. Dejte do správného pořadí postupy zpracování dat od jejich výběru po výstup ze systému:

634

- | | | | |
|---|----|---|---|
| 1 | 3. | A | získání rastrových dat s využitím skeneru družice DPZ |
| 2 | 4. | B | vektorizace |
| 3 | 1. | C | vizualizace |
| 4 | 2. | D | odlišení podrobnosti geografických prvků a snímku DPZ |

9. Při aktivitě k sobě druh turismu a místo, kde bývá realizován:

638

- | | | | |
|---|---------------------|---|--------------------|
| 1 | geoturismus | A | Auschwitz-Birkenau |
| 2 | zdravotní turismus | B | Island |
| 3 | temný turismus | C | Vatikán |
| 4 | náboženský turismus | D | Karlovy Vary |

10. Mezi jaké horniny zařadíte vápenec?

610

- A regionálně přeměněné
- B organické
- C klastické
- D vyvlelé

11. Základním článkem administrativního členění státu v Rusku jsou:

604

- A kraje
- B okresy
- C obce
- D statutární města

12. Při aktivitě k sobě autora a koncept, který je klíčový v jeho promyšlení politické geografie:

609

- | | | | |
|---|-------------------|---|-------------------|
| 1 | Halford Mackinder | A | Lebensraum |
| 2 | Friedrich Ratzel | B | škrtící body |
| 3 | Alfred Mahan | C | nárazníkové státy |
| 4 | Nikolas Spykman | D | Heartland |

13. Kde je nejmladší zemská kůra?

612

- A středooceánský hřbet
- B horský okraj kontinentu
- C subdukční zóna
- D střed kontinentu / kontinentální štít

14. Jakou úroveň trofické pyramidy obsadí houba rostoucí pod stromem?

623

- A primární producent
- B primární konzument
- C rozkladač
- D sekundární konzument

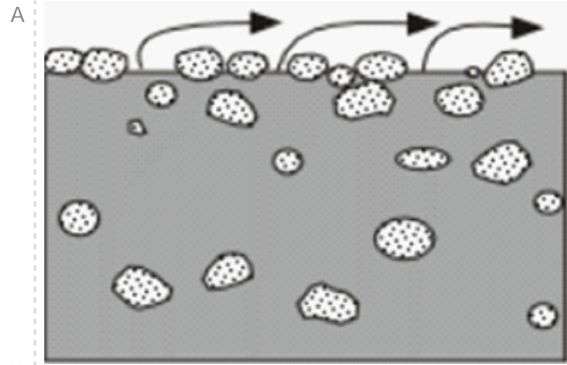
15. Při setkání esko-polským a esko-německým euroregionem místa, v nichž sídlí některé z jejich sekretariátů: 628
- | | | | |
|---|-----------|---|---------------------|
| 1 | Glacensis | A | Liberec |
| 2 | Egrensis | B | Opava |
| 3 | Nisa | C | Rychnov nad Kněžnou |
| 4 | Silesia | D | Cheb |
16. Při setkání jednotlivým geologickým jevům: 626
- | | | | |
|---|------------------|---|--|
| 1 | Japonsko | A | divergentní rozhraní litosférických desek |
| 2 | jezero Tanganika | B | transformní rozhraní litosférických desek |
| 3 | Mazury | C | ledovcové dle |
| 4 | Mrtvé moře | D | konvergentní rozhraní litosférických desek |
17. Při setkání termíny a autory: 642
- | | | | |
|---|-------------|---|-------------------------|
| 1 | Spykman | A | populační růst |
| 2 | Maltus | B | World System Theory |
| 3 | Christaller | C | Rimland |
| 4 | Wallerstein | D | Teorie centrálních míst |
18. Který z těchto jevů je spojen s eolickými procesy? 622
- A monzuny
B kary
C tsunami
D barchany
19. Při setkání prvky k určitému objektu, do které je běžně zařadíme: 631
- | | | | |
|---|-------------------------------------|---|--|
| 1 | orientační linie na zemském povrchu | A | povrch zemského elipsoidu, povrch zemské koule |
| 2 | referenční tleso | B | zemský elipsoid, zemská koule |
| 3 | geografické souřadnice | C | geografická délka a šířka |
| 4 | referenční plochy | D | rovnoběžky a poledníky |
20. Povrchové vlnění směřují do: 614
- A oblasti vysokého tlaku
B tlakové výše
C subtropických oblastí vysokého tlaku
D cyklóny
21. Karel Kořistka regionalizoval české země podle: 621
- A zemědělských oblastí
B přemyslu
C vojenských útvarů
D národnostního složení
22. Kupařité mraky (kumuly), mají často plochou základnu. Tato úroveň vyznačuje: 615
- A kondenzační hladinu
B míchání vrstev teplého a studeného vzduchu
C tropopauzu
D horní část troposféry

23. Koeficient státní kompaktnosti srovnává: 603
- A plochu území nejmén dvou sousedících stát
 - B plochu státního území a plochu kruhu opsaného státnímu území
 - C plochu státního území a plochu kruhu vepsaného státnímu území
 - D plochu území nejmén tří sousedících stát
24. Přítelny firmám země jejich původu: 637
- | | |
|------------------|-------------|
| 1 Adidas | A Španělsko |
| 2 H&M | B Německo |
| 3 Benetton Group | C Švédsko |
| 4 Zara | D Itálie |
25. Pásmo vnitřní periferie tvoří: 620
- A český ráj
 - B pás táhnoucí se od jihu Ústeckého kraje podél jižní hranice Středočeského kraje až na Vysočinu
 - C oblast Jeseník
 - D okresy Uherské Hradiště, Vyškov a Blansko

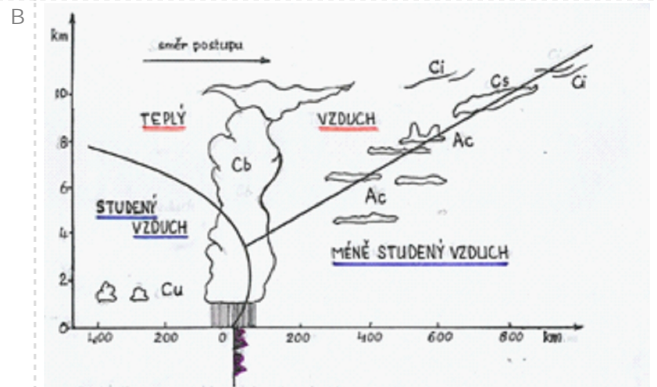
26. Spojte pojem s obrázkem:

605

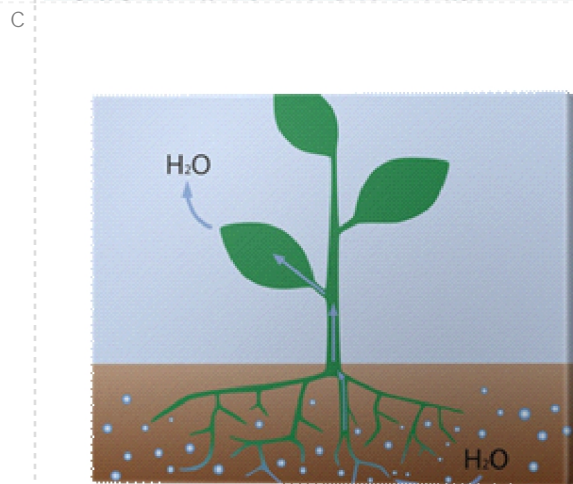
1 subdukce



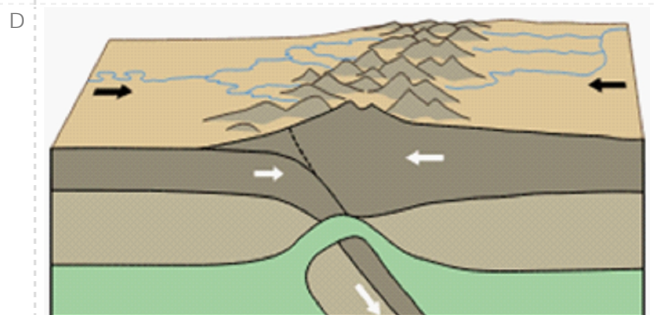
2 okluze



3 deflace



4 transpirace



27. Se a te délku hranic R se sousedy – od nejdělsí po nejkratší:

630

- | | | | |
|---|----|---|-----------|
| 1 | 4. | A | N mecko |
| 2 | 3. | B | Slovensko |
| 3 | 2. | C | Polsko |
| 4 | 1. | D | Rakousko |

28. P i a te k sob autora modelu m sta a hlavní koncept, na n mž je model vybudován:

635

- | | | | |
|---|-------------------------------|---|-------------------|
| 1 | Ernest Burgess | A | vícejadernost |
| 2 | Chauncy Harris, Edward Ullman | B | koncentrické zóny |
| 3 | Michael Hopkinson | C | historický vývoj |
| 4 | Homer Hoyt | D | sektorovost |

29. Které z uvedených m st není v dnešní dob rozd leno mezi dva státy?

618

- A Trebišov
- B T šín
- C Komárno
- D Zho elec

30. Vytvo te správné dvojice tvar a initel jejich vzniku:

640

- | | | | |
|---|-------------------|---|-----------------------------|
| 1 | moréna | A | p sobení ledovce |
| 2 | duna | B | p sobení tekoucí vody |
| 3 | meandr | C | p sobení v tru |
| 4 | krápníková jeskyn | D | chemické zv trávaní vápence |

31. P i a te k sob obec a její status:

636

- | | | | |
|---|------------------|---|------------------|
| 1 | eská Lípa | A | m stys |
| 2 | Zdislava | B | statutární m sto |
| 3 | Mladá Boleslav | C | obec |
| 4 | Kryštofovo Údolí | D | m sto |

32. P i a te procesu (jevu) d ležitému pro pochopení systému krajinné sféry nejvýrazn jší vn jší vliv - tj. vliv, který umíte popsat a kterého p vod je mimo krajinnou sféru Zem :

633

- | | | | |
|---|------------------------------------|---|-------------------|
| 1 | pokles insolace od rovníku k pól m | A | gravitace |
| 2 | kolob h vody | B | slune ní teplo |
| 3 | fotosyntéza | C | slune ní sv tlo |
| 4 | shromaž ování vody v prohlubních | D | kulovitý tvar Zem |

33. Nejvyšších hodnot fertility (po tu potomk na 1 ženu) dosahují státy:

616

- A Subsaharské Afriky
- B Jižní Ameriky
- C Východní Asie
- D Severní Ameriky

34. Tzv. maastrichtský typ národního státu ve vztahu etnika a území znamená, že:

607

- A státní území přesahuje etnické území
- B etnické a státní území nejsou zcela totožné, ale výrazně se překrývají
- C etnické a státní území jsou totožné
- D etnické území přesahuje hranice státu

35. Který z uvedených fondů nepatří mezi fondy Evropské unie?

619

- A Fond soudržnosti
- B Fond pro spravedlivou transformaci
- C Fond národního blahobytu
- D Evropský sociální fond

36. Sleduje-li pozorovatel na Zemi zatmění Slunce, astronaut na odvrácené straně Měsíce:

611

- A uvidí zatmění Země
- B uvidí zatmění Měsíce
- C žádné zatmění neuvidí
- D také uvidí zatmění Slunce

37. Seřaďte prvky v subdukční zóně ve směru pohybu:

641

- | | | | |
|---|----|---|----------------------|
| 1 | 2. | A | laguna |
| 2 | 3. | B | hlubokomořský příkop |
| 3 | 1. | C | kontinent |
| 4 | 4. | D | ostrovní oblouk |

38. Při určování mapových znaků v polohopisu pro sídla zodpovídající měřítku:

632

- | | | | |
|---|--|---|-------------|
| 1 | přechodové domy v těších budov a bloky menších domů | A | 1 : 500 000 |
| 2 | sídla znázorněná jako bloky domů | B | 1 : 25 000 |
| 3 | přechodové domy | C | 1 : 100 000 |
| 4 | v těších sídla znázorněná jako polygony, menší jako kružky | D | 1 : 10 000 |

39. V jakých z níže uvedených zemí je nejrozšířenějším náboženstvím buddhismus?

617

- A Malajsie, Indonésie, Indie, Filipíny
- B Itálie, Polsko, Mexiko, USA
- C Srí Lanka, Thajsko, Kambodža, Myanmar
- D Etiopie, Somálsko, Nigérie, Namibie

40. Při určování geografické oblasti a zkratky politického/vojenského/hospodářského uskupení:

608

- | | | | |
|---|---|---|--------|
| 1 | Jihovýchodní Asie | A | ASEAN |
| 2 | Země Afriky | B | AU |
| 3 | Ruská federace a část států s ním sousedících | C | UNASUR |
| 4 | Jižní Amerika | D | EAEU |

P íjmací test pro NMGr: Aplikovaná geografie a regionální rozvoj, 2022

Vyhodnocovací tabulka pro u ební materiál

	íslo variace
íslo otázky	Správná odpov ě nebo NN* - íslo otázky

1	
1	B
2	C
3	A
4	1B2C3D4A
5	1D2A3C4B
6	1A2D3C4B
7	B
8	1B2C3A4D
9	1B2D3A4C
10	B
11	C
12	1D2A3B4C
13	A
14	C
15	1C2D3A4B
16	1D2A3C4B
17	1C2A3D4B
18	D
19	1D2B3C4A
20	
21	A
22	A
23	B
24	1B2C3D4A
25	B
26	1D2B3A4C
27	1B2D3C4A
28	1B2A3C4D
29	A
30	1A2C3B4D
31	1D2A3B4C
32	1D2B3C4A
33	A
34	
35	C
36	C
37	1D2A3B4C

Příjímací test pro NMgr: Aplikovaná geografie a regionální rozvoj, 2022

Vyhodnocovací tabulka pro učební materiál

	íslo variace
íslo otázky	Správná odpov. nebo NN* - íslo otázky

38 | 1B2C3D4A |

39 | C |

40 | 1A2B3D4C |